

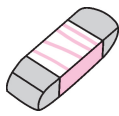

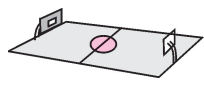
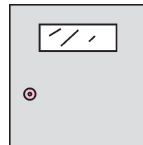


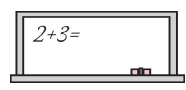

第五单元综合测试卷

(时间：60分钟 分数：100分)

得分：_____

一、我会填。(每空 1 分,共 20 分)

1. 量一支铅笔的长度通常用(厘米)作单位,量一棵大树的高度通常用(米)作单位。
2. 1 米=(100)厘米 400 厘米=(4)米
- 3 米=(300)厘米 1 米 20 厘米=(120)厘米
3. 在括号里填上合适的单位名称。

 橡皮擦 长约 4(厘米)	 房子宽 约 5(米)	 篮球场长 约 28(米)	 门高 约 2(米)
 杯子高 约 9(厘米)	 旗杆高 约 15(米)	 黑板宽 约 1(米)	 粉笔长 约 8(厘米)

4. 在○里填“>”“<”或“=”。

200 厘米○2 米 5 厘米○5 米 4 米○40 厘米

1 米○60 厘米 40 厘米○37 厘米 99 厘米○1 米

①考生要写清校名、姓名和班级
②不在试卷上做任何标识
③字迹要清楚，卷面要整洁





姓 名

班 级

学 校

考 号

二、下面的测量方法正确吗？在正确的方框里画“√”。(8 分)



三、下面的图形哪些是线段？是线段的在括号里画“√”，不是的画“×”。(6 分)



(√)



(×)



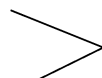
(√)



(×)



(√)



(×)

四、我会选。(将正确答案的序号填入括号里)(10 分)

1. 一条 是 一条 (②)。

①曲线

②线段

③直线

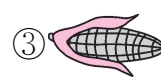
2. 学生尺上从刻度“1”画到刻度“9”是 (③) 厘米。

①10

②9

③8

3. 长约 20 厘米的东西是 (③)。



4. 1 米和 100 厘米长的绳子相比, (③)。

①1 米长的绳子长

②100 厘米长的绳子长

③一样长

5. (合肥市蜀山区)量篮球场的长和宽时,可以用“身体尺”(③)测量。

①一拃

②一度

③一步

五、我会算。(6分)

$27 \text{ 厘米} + 9 \text{ 厘米} = (\text{ 36 }) \text{ 厘米}$

$40 \text{ 米} - 16 \text{ 米} = (\text{ 24 }) \text{ 米}$

$13 \text{ 厘米} + 2 \text{ 厘米} = (\text{ 15 }) \text{ 厘米}$

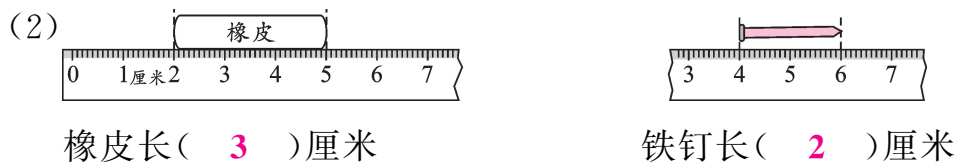
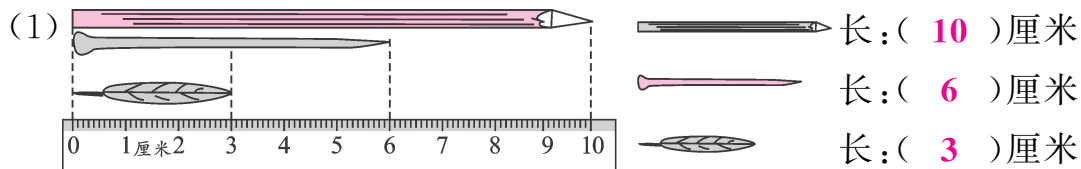
$1 \text{ 米} - 90 \text{ 厘米} = (\text{ 10 }) \text{ 厘米}$

$15 \text{ 米} - 10 \text{ 米} = (\text{ 500 }) \text{ 厘米}$

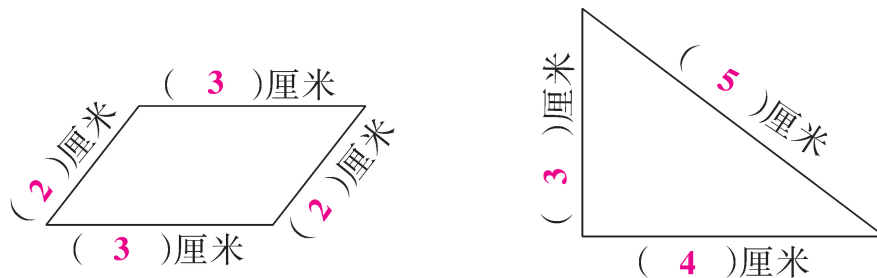
$2 \text{ 米} + 45 \text{ 厘米} = (\text{ 245 }) \text{ 厘米}$

六、量一量,填一填,画一画。(共26分)

1. 填一填。(10分)



2. 量一量,填一填。(7分)



3. 画一画。(9分)

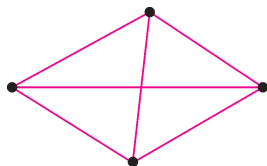
(1)画一条6厘米的线段。



(2)画一条比5厘米长2厘米的线段。



(3)在下面每两点之间画一条线段,一共能画(6)条。



七、解决问题。(共 24 分)


1. 一根攀岩的绳子长 36 米,一根消防救生绳比攀岩绳子长 6 米。这根消防救生绳长多少米?(5 分)

$$36+6=42 \text{ (米)}$$

2. 如右图所示,妮妮再长多高就是 1 米?(5 分)

$$1 \text{ 米}=100 \text{ 厘米}$$

$$100-90=10 \text{ (厘米)}$$

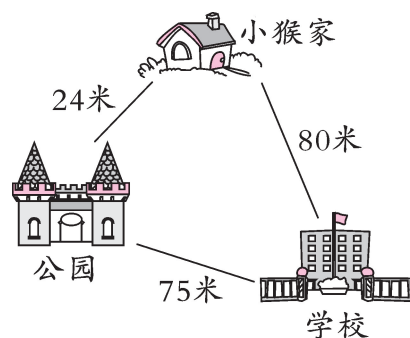


3. (蚌埠市蚌山区)小猴从学校回家有两条路走,哪一条路要近一些?(5 分)

$$75+24=99 \text{ (米)}$$

$$99 > 80$$

答:从学校直接到家近一些。



4. (9 分)

